



## Deneme Sınavı - 01

ULTI  
Seri

### 1. ÜNİTE

Adı ve Soyadı :

Sınıfı :

Numarası :



656430

ÖĞRENCİ NO	YANITLAR
0 0 0 0 0 0 0	1 A B C D 11 A B C D
1 1 1 1 1 1 1	2 A B C D 12 A B C D
2 2 2 2 2 2 2	3 A B C D 13 A B C D
3 3 3 3 3 3 3	4 A B C D 14 A B C D
4 4 4 4 4 4 4	5 A B C D 15 A B C D
5 5 5 5 5 5 5	6 A B C D 16 A B C D
6 6 6 6 6 6 6	7 A B C D 17 A B C D
7 7 7 7 7 7 7	8 A B C D 18 A B C D
8 8 8 8 8 8 8	9 A B C D 19 A B C D
9 9 9 9 9 9 9	10 A B C D 20 A B C D

1.



**Kültür taşıyıcısı olan dil unsuru ile ilgili bu afişte;**

- I. Türkçenin zarar gördüğü,
  - II. Türkçe bazı kelimeler yerine yabancı kelimelerin kullanıldığı,
  - III. Türk dilinin korunması gerektiği
- ifadelerinden hangileri anlatılmak istenmiştir?**

- A) Yalnız III                      B) I ve II  
C) I ve III                         D) I, II ve III

2. Sosyal bilgiler dersi, bilinçli ve etkin bir vatandaş olarak karşılaşılan sorunların çözümünde kullanılacak doğru yöntemleri de öğretir.

**Aşağıdakilerden hangisi metindeki altı çizili bölümle ilişkilendirilemez?**

- A) Dilekçe hakkını kullanma  
B) Bireysel çıkarlara göre çözüm yolları üretme  
C) Yetkili kurumlara başvurma  
D) İlgili telefon hatlarını arama

3. Anadolu'nun pek çok yerinde yılın belli dönemlerinde bir araya gelen kadınlar; salça, yufka, erişte, baklava gibi besinleri el birliğiyle hazırlarlar. Bu uygulama, toplumumuza çok eski zamanlardan kalan bir armağandır. Böylelikle hem işler kolaylaşır hem de bir arada olma ruhu ile toplumsal birlikteliğe katkı sağlanmış olur.

**Bu metinde toplumsal birlikteliğin oluşmasına katkı sağlayan aşağıdaki unsurlardan hangisi vurgulanmıştır?**

- A) Dil  
B) Din  
C) Gelenek ve görenekler  
D) Mimari



4. Yardımlaşma ve dayanışma, insan hayatının vazgeçilmez değerlerindedir. Bu değerler, gündelik hayatın pek çok alanında yaşamaktadır.



İmece ile ürün toplayan köylüler



Aşure gününde aşure dağıtan insanlar



Depremzedeler için kampanya düzenleyen Türk Kızılayı

**Buna göre yukarıda verilen açıklamaya, numaralanmış görsellerden hangileri örnek gösterilebilir?**

- A) Yalnız I                      B) I ve II                      C) II ve III                      D) I, II ve III

5.

Ülkemizde belediyeler öncülüğünde başlatılan giysi kumbaraları; vakıf, dernek ve sivil toplum kuruluşlarının da katılımları ile yurt genelinde yaygınlaşmaya başlamıştır. Şehrin işlek noktalarına bırakılan bu kumbaralara insanlar kullanmadıkları kıyafet, ayakkabı ve tekstil ürünlerini bırakmaktadır. İlgili kurumun çalışanları belirli aralıklarla bu kumbaralarda biriken ürünleri ayrıştırma merkezine götürmektedir. Burada kullanılabilir ürünler, gerekli temizlikleri yapıldıktan sonra ihtiyaç sahiplerine ulaştırılmaktadır.



**Yapılan bu çalışma ile ilgili aşağıdakilerden hangisi söylenemez?**

- A) Atıl ürünler kullanıma kazandırılır.  
B) Belediye, dernek ve vakıflar ek gelir sağlar.  
C) İhtiyaç sahiplerine el uzatılır.  
D) Birlik ve beraberlik duygusu güçlendirilir.

6. Sude, durum ve ön yargı çeşidi ile ilgili etkinlik tablosunu aşağıdaki gibi doldurmuştur.

Durum	Ön Yargı Çeşidi
Avrupa'da, Müslümanların eğitim ve öğretime önem vermediklerine dair bir düşüncenin olması	Dine karşı ön yargı
Aysu'nun, sınıfına yeni gelen Suriyeli Enfal ile oynamak istememesi	Milliyete karşı ön yargı
İrem'in, otomobil kullanımında kadınların çok başarılı olmadığına inanması	Cinsiyete karşı ön yargı
Ali'nin şoförlerin hiç kitap okumadıklarını düşünmesi	Sosyoekonomik duruma karşı ön yargı

Yapılan her doğru doldurma 25 puan olduğuna göre Sude toplamda kaç puan almıştır?

- A) 25                      B) 50                      C) 75                      D) 100
7. Aşağıda Kamu Denetleme Kurumunun (KDK) çocuklar için hazırladığı broşür verilmiştir.

### BİZ KİMİZ?

Herkes gibi senin de **idarelerle** (okul, hastane, aile hekimi, yurt, valilik, kaymakamlık, karakol, itfaiye ve belediye gibi) yaşadığın sorunları çözmek için kurulmuş yeni bir **KURUMUZ**.

- Kamu Hizmeti** (eğitim, sağlık, ulaşım, barınma gibi) alırken haksızlığa uğradığını mı düşünüyorsun?
- Kamu Görevlileri** (öğretmen, doktor, hemşire, yurt görevlisi, itfaiyeci, asker, polis gibi) ile ilgili bir sorun mu yaşadın?

Senin idarelerle yaşadığın bu sorununu öncelikli olarak ilgili idare ile paylaşmanı, sorunun hâlâ çözülmediğini düşünüyorsan bize başvurmanı bekliyoruz.

Bize kolaylıkla başvurabilirsin ...

**WWW.kdkcocuk.gov.tr**

### Şikâyet Başvurusu ÜCRETSİZ!



### BİZE KİMLER BAŞVURABİLİR?

- ★ Çocuklar
- ★ Gençler
- ★ Yetişkinler
- ★ Dernekler
- ★ Vakıflar...

### NASIL BAŞVURABİLİRİM?

İdarelerle yaşadığın ya da gördüğün bir haksızlığı paylaşmak için bize başvuru yaptığında artık bizim "**görev ortağımız**"sın.

Bilmelisin ki bu görev için yaşadığın ya da gördüğün haksızlık ile ilgili birtakım bilgileri **Kamu Denetçisi** ile paylaşman gerekli.

Hatta, senin kişisel bilgilerine de (isim, soyisim, T.C. kimlik no., adres gibi) ihtiyacımız olacak. İstersen kimliğin gizli kalacak.



Başvuramı **kdkcocuk.gov.tr** adresinden gönderebilirsin.

Buna göre,

- I. KDK, kamu hizmetlerinin yürütülmesi sırasında yaşanan sorunlarla da ilgilenir.  
 II. KDK'ye, farklı kişi ya da kurumların başvuru yapma hakkı vardır.  
 III. KDK, 1998 yılında kurulmuştur.

Yargılarından hangilerine ulaşılabilir?

- A) I ve II                      B) I ve III                      C) II ve III                      D) I, II ve III



8.

Hüseyin Güllüoğlu Ortaokulu Müdürlüğüne

Okulumuzun 6A sınıfı 1881 numaralı öğrencisiyim. 14-17 Ekim 2022 tarihlerinde rahatsız olduğum için sınavlara katılamadım. Hastaneden aldığım rapor ekte olup ilgili derslerin sınavlarına girmem konusunda gereğinin yapılmasını bilgilerinize arz ederim.

Adres: Uyanış Mahallesi,  
Barış Sokak 6/10

Ek: Rapor

23.10.2022

İmza

Beratcan Yılmaz

**Bu örnekten hareketle dilekçe ile ilgili,**

- I. Resmî bir dil kullanılır.
- II. Konu ile ilgili evraklar eklenir.
- III. Tarihli ve imzalıdır.

**yargılarından hangileri doğrudur?**

- A) I ve II                      B) I ve III                      C) II ve III                      D) I, II ve III

9.

## HABER

### Avrupa'ya Sığınan Suriyeli Mültecilere Duvar Şoku

Suriye'de yaşanan iç savaş sonrasında bazı Avrupalı devletler, Avrupa'ya sığınan Müslüman mültecilerin ülkelerine girmesini engellemek için uzunluğu kilometreleri bulan duvarlarla sınırlarını girişlere kapattı.

Genel ağ haberi

**Bu haber;**

- I. dine karşı,
- II. milliyete karşı,
- III. cinsiyete karşı

**kalıp yargı türlerinden hangileri ile ilişkilendirilebilir?**

- A) I ve II                      B) I ve III  
C) II ve III                      D) I, II ve III

10. Orçun, bu yıl üniversiteden mezun olarak mühendis oldu. Artık Orçun'un da bir mesleki rolü oldu. Ailesi Orçun'a "Mesleki rolünün sorumluluklarını yerine getirirken bize ve kardeşine karşı sorumluluklarını da unutmamalısın." dedi.

**Bu metinde Orçun'un üstlendiği aşağıdaki rollerden hangisine değinilmemiştir?**

- A) Arkadaşlık                      B) Ağabeylik  
C) Mühendislik                      D) Evlat





Deneme Sınavı - 02

2. ÜNİTE



Adı ve Soyadı :

Sınıfı :

Numarası :



656431

ÖĞRENCİ NO
0 0 0 0 0 0
1 1 1 1 1 1
2 2 2 2 2 2
3 3 3 3 3 3
4 4 4 4 4 4
5 5 5 5 5 5
6 6 6 6 6 6
7 7 7 7 7 7
8 8 8 8 8 8
9 9 9 9 9 9

YANITLAR	
1	A B C D
2	A B C D
3	A B C D
4	A B C D
5	A B C D
6	A B C D
7	A B C D
8	A B C D
9	A B C D
10	A B C D
11	A B C D
12	A B C D
13	A B C D
14	A B C D
15	A B C D
16	A B C D
17	A B C D
18	A B C D
19	A B C D
20	A B C D

1.



**Bu haritaya göre,**

- I. Emeviler Dönemi'nde Türk-Arap savaşları başlamıştır.
- II. Dört Halife Dönemi'nde Arap Yarımadası'nın dışına çıkmıştır.
- III. İslamiyet üç kıtaya yayılmıştır.

**yargılarından hangilerine ulaşılabilir?**

- A) I ve II                      B) I ve III                      C) II ve III                      D) I, II ve III



2. Kök Türkler, sanat faaliyetlerine önem vermişlerdir. Sanat eserlerini genelde taşınabilir malzemelerden, deri, ahşap, metal ve taş işçiliğine dayalı olarak yapmışlardır. Türkler, deriden kestikleri parçaları boyayıp bunları keçe ve kumaşlar üzerine yerleştirerek resimler yapmışlardır.

**Bu metinde altı çizili bölüm Kök Türklerle ait aşağıdaki özelliklerden hangisi ile ilişkilendirilebilir?**

- A) Merkezî yönetimin güçlü tutulmasıyla  
B) Göçebe yaşam tarzının benimsenmesiyle  
C) Orta Asya'da kurulmuş olmalarıyla  
D) Temel geçim kaynaklarının tarım ve ticaret olmasıyla

3. İpek Yolu, tabiatın ve iklimin hazırladığı geniş vadi yatakları ile kervanların konaklamalarına yarayacak vahalardan geçmekteydi. Bu vahalarda zamanla Hami, Turfan, Karaşar, Aksu, Koçu, Kaşgar, Yarkent ve Hotan gibi şehirler kurulmuştur.

**Sadece bu bilgilere göre aşağıdaki yargılardan hangisine ulaşamaz?**

- A) İpek Yolu'nun güzergâhında doğal unsurlar etkili olmuştur.  
B) İpek Yolu üzerinde şehirler kurulmuştur.  
C) İpek Yolu, Asya ve Avrupa kıtalarını birbirine bağlamıştır.  
D) İpek Yolu üzerinde tüccarların konakladıkları yerler vardır.

4. • Hz. Ebu Bekir Dönemi'nde Arap Yarımadası dışında fetihler başlamıştır.  
• Hz. Ömer Dönemi'nde illerin başına valiler atanmıştır.  
• Hz. Osman Dönemi'nde Kıbrıs fethedilmiştir.

**Bu bilgiler aşağıdaki yargılardan hangisini doğrular?**

- A) Hz. Osman Dönemi'nde fetihler durmuştur.  
B) İslam fetihleri geniş bir alana yayılmıştır.  
C) Yönetim alanındaki çalışmaları Hz. Ebu Bekir başlatmıştır.  
D) Hz. Ömer Dönemi'nde denizaşırı fetihler yapılmıştır.

5.

Orta Asya'nın coğrafi özellikleri, bozkır kültürünün ortaya çıkmasında etkili olmuştur. Bozkır kültürü, Türkler arasındaki sosyal ve ekonomik yapıyı şekillendiren temel faktördür. Doğaya karşı verilen mücadele Türkler; sosyal, siyasi ve askerî yetenekler kazandırmıştır. Bu sayede Orta Asya, dünya tarihinin büyük cihangirlerinin vatanı olmuştur. Çadır, kilim ve demir bu kültürün önemli unsurlarındandır. Türkler, yılın belli bölümlerinde mevsim koşullarına göre yerlerini değiştirerek konargöçer bir hayat tarzı yaşamakta ve daha çok hayvancılık ile uğraşmaktaydılar.

**Bu metne göre,**

- I. Coğrafi özellikler, kültürel yapıyı etkiler.  
II. Türkler, ilk kez Orta Asya'da yerleşik hayata geçmiştir.  
III. Orta Asya'nın doğal yapısı, Türklerin askerî ve siyasi özelliklerini etkilemiştir.

**değerlendirmelerinden hangilerine ulaşılabilir?**

- A) I ve II  
B) I ve III  
C) II ve III  
D) I, II ve III

6. Türkiye Selçukluları, kervanların konaklaması için kervansaraylar yaptırdılar. Bu kervansaraylarda kalan tüccarların dinlenme, beslenme, sağlık ve temizlik ihtiyaçları üç gün boyunca ücretsiz olarak karşılanırdı. Kervansarayların içinde odalar, mescit, hamam, çeşme gibi bölümler ile veteriner ve hayvanların bakımını yapan görevliler bulunurdu. Ayrıca Türkiye Selçukluları, ticaret yollarında zarara uğrayan tüccarların kayıplarını karşılayarak dünyada ilk sigortacılık uygulamasını hayata geçirdiler.



Sultan Han

**Buna göre Türkiye Selçukluları ile ilgili aşağıdakilerden hangisi söylenemez?**

- A) Ticari faaliyetlere önem vermişlerdir.  
B) Kervansaraylarda sadece tüccarların değil, hayvanların da ihtiyaçları karşılanmaya çalışılmıştır.  
C) Ekonomik faaliyetleri destekleyen mimari yapılar inşa etmişlerdir.  
D) Gelir düzeyleri yüksek olduğu için sosyal hayatın pek çok alanında ücretsiz uygulamalarda bulunmuşlardır.

7. Yusuf Has Hacib, *Kutadgu Bilig* adlı eserinde "Memleket tutmak için çok asker ve ordu lazımdır. Askeri beslemek için de çok mal ve servete ihtiyaç vardır. Bu malı elde etmek için halkın zengin olması gerekir. Halkın zengin olması için de doğru kanunlar konulmalıdır." demiştir.

**Buna göre *Kutadgu Bilig* ile ilgili,**

- I. Eserde adalet kavramına önem verilmiştir.  
II. Eser, yol gösterici bir özelliğe sahiptir.  
III. Türk İslam tarihinin en önemli yazılı eseridir.

**yargılarından hangilerine ulaşılabilir?**

- A) I ve II  
B) I ve III  
C) II ve III  
D) I, II ve III



8. Orta Asya Türk devletlerinden olan Uygurlar, Manihaizm dinini devletin resmî dini olarak kabul etmişlerdir. Manihaizm dini, et yemeyi ve savaşmayı yasaklamıştır. Bu nedenle Uygurların savaşçılık yetenekleri zamanla azalmıştır. Uygurlar, bu dinin etkisiyle yerleşik hayata geçerek tarımla uğraşmaya ve mimari eserler inşa etmeye başlamışlardır.

**Buna göre Uygurların yerleşik hayata geçmeleri;**

- I. sosyal,  
II. ekonomik,  
III. kültürel

**özelliklerinden hangilerini etkilemiştir?**

- A) Yalnız II  
B) I ve II  
C) I ve III  
D) I, II ve III



9.

“Her biriniz memlekete dair düşünüp saltanatımız devrindeki aksaklıkları tespit ediniz. Dergâh, divan ve sarayımızda yerine getirilmesi gerekirken yapılmayan yahut gözümüzden kaçan durumları gözden geçiriniz. Ayrıca evvelki sultanlar yaptıkları hâlde bizim yapmadığımız durumları tespit ediniz. Üzerinde düşünelim, bu düşünceleri hayata geçirelim ki din ve dünya işlerimiz yolunca ve yordaminca devam etsin.”

Barış Eşmeli, TESAM Akademi Dergisi,  
Sayı 2, s. 240.

**Büyük Selçuklu hükümdarı Melikşah'ın bu sözlerine göre aşağıdaki yargılardan hangisine ulaşamaz?**

- A) Melikşah, farklı fikirlere önem vermiştir.
- B) Melikşah, mevcut sorunların tespit edilmesini amaçlamıştır.
- C) Büyük Selçuklu Devleti'ne en parlak dönemini Melikşah yaşatmıştır.
- D) Melikşah'ın amacı devlet düzenini daha güçlü hâle getirmektir.

10.

II. Haçlı Seferi'nden sonra Türkler artık acınacak durumda bulunan bu aç, hasta, fakir insanlara karşı savaştan vazgeçip merhamete geldiler. Aç ve fakirlere yemek verdiler, hastalarını tedavi ettiler ve kendilerine para dağıttılar. Böylece dindaşları Rumların zulmünden kaçıp Müslümanlardan himaye ve merhamet arayan üç binden fazla gencin Türklerin tarafına geçtiği söyleniyor. Bu durum üzerine Papaz Odon, “Türkler onları Müslüman yapmak için bir zorlamada bulunmadılar.” demiştir.

Osman Turan, *Selçuklular Zamanında Türkiye*, s. 211.

**Buna göre,**

- I. Türkler, merhametli bir millettir.
- II. Türkler, İslam'ı kılıç zoru ile yaymıştır.
- III. Türkler, düşman askerlerinin haklarını gözetmiştir.

**yargılarından hangilerine ulaşılabilir?**

- A) I ve II
- B) I ve III
- C) II ve III
- D) I, II ve III





Adı ve Soyadı :

Sınıfı :

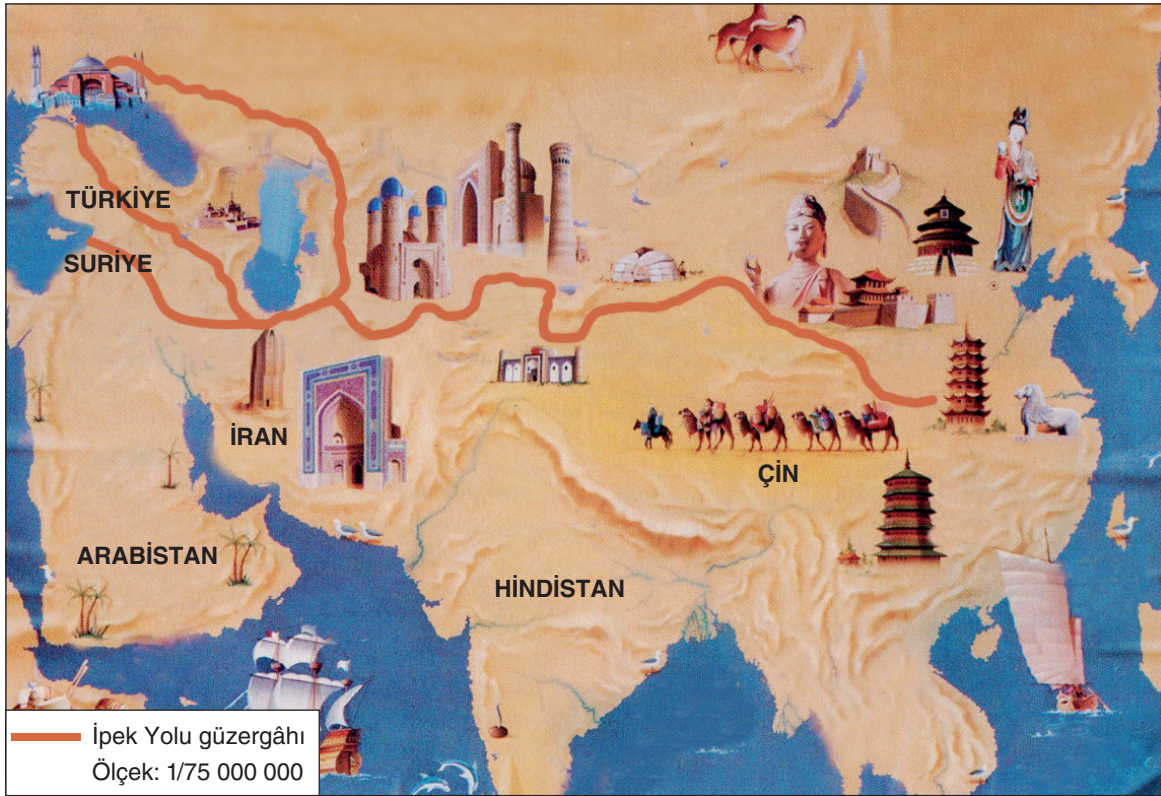
Numarası :



656432

ÖĞRENCİ NO	YANITLAR
0 0 0 0 0 0 0	1 A B C D 11 A B C D
1 1 1 1 1 1 1	2 A B C D 12 A B C D
2 2 2 2 2 2 2	3 A B C D 13 A B C D
3 3 3 3 3 3 3	4 A B C D 14 A B C D
4 4 4 4 4 4 4	5 A B C D 15 A B C D
5 5 5 5 5 5 5	6 A B C D 16 A B C D
6 6 6 6 6 6 6	7 A B C D 17 A B C D
7 7 7 7 7 7 7	8 A B C D 18 A B C D
8 8 8 8 8 8 8	9 A B C D 19 A B C D
9 9 9 9 9 9 9	10 A B C D 20 A B C D

1.



**Bu haritaya göre İpek Yolu ile ilgili,**

- I. Taşımacılık sadece develer ile yapılmıştır.
- II. Asya ile Avrupa kıtaları arasında uzanmıştır.
- III. Anadolu üzerinden de geçen bir yoldur.

**yargılarından hangilerine ulaşılabilir?**

A) I ve II

B) I ve III

C) II ve III

D) I, II ve III



2. Kültürü oluşturan unsurlardan bazıları aşağıda verilmiştir.

- Tarih
- Gelenek ve görenek
- Din

**Ülkemize ait aşağıdaki uygulamalar, verilen kültürel unsurlarla eşleştirildiğinde hangi uygulama dışta kalır?**

- A) Millî bayramların büyük bir coşku ile kutlanması
- B) Ramazan ayında iftar davetlerinin yapılması
- C) Düğün öncesinde gelinlere kına gecesi yapılması
- D) Türklerde çeşme, çarşı ve köprü yapımının yaygın olması

3.

Duru, Atatürk Ortaokulu 6A sınıfının öğrencisidir. Aynı zamanda sınıf başkanıdır. Okulun müzik grubunun da solistidir.

**Bu metin aşağıdaki yargılardan hangisini doğrulamaktadır?**

- A) Bireyler aynı anda çeşitli rollere sahip olabilir.
- B) Ortaokul öğrencilerinin üstlenebileceği rol sayısı sınırlıdır.
- C) Duru, üstlendiği rollerin sorumluluklarını yerine getirmeyen bir öğrencidir.
- D) Bireylerin sahip oldukları sosyal roller zamanla değişime uğrar.

4. **Bireysel farklılıklara karşı saygının fazla olduğu bir toplum için,**

- I. Hoşgörü ruhu vardır.
- II. Kalıp yargı ve ön yargı yaygın değildir.
- III. Toplumsal yapıda ayrışma vardır.

**yargılarından hangileri doğrudur?**

- A) I ve II
- B) I ve III
- C) II ve III
- D) I, II ve III

5. Türklerin İslamiyet'i kabul etme sürecinde etkili olan unsurlardan bazıları aşağıda verilmiştir.

- Talas Savaşı'ndan sonra Türkler ile Araplar arasındaki ticaretin gelişmesi
- Türklerde İslamiyet'ten önce de tek Tanrı inancının yaygın olması
- Türk toplumunun ahlak ve temizlik anlayışıyla İslamiyet'in getirdiği "Temizlik imandandır." anlayışı arasında büyük benzerliklerin olması
- Abbasilerin bütün uluslara eşit davranmaları

**Buna göre aşağıdaki yargılardan hangisine ulaşılamaz?**

- A) Askerî ve ticari gelişmeler, süreç üzerinde etkili olmuştur.
- B) İslam dini ile Türklerin sosyal yaşamında benzerlikler vardır.
- C) Talas Savaşı öncesinde Türkler, İslam dinini bireysel olarak kabul etmiştir.
- D) Abbasiler, Müslümanlar arasında ayırım yapmamıştır.

6.



Toplumsal birlikteliğin oluşmasında kültürel unsurlar önemli bir yer kaplar. Çünkü bu unsurlar, bireyler arasındaki toplumsal birlikteliğin oluşmasını sağlayan sosyal bağlara örnektir.

**Bu açıklamaya;**

- I. hastaları ziyaret etmek,
- II. misafirlere ikramda bulunmak,
- III. büyüklere saygı, küçüklere sevgi göstermek

**davranışlarından hangileri kanıt olarak gösterilebilir?**

- A) Yalnız I
- B) I ve II
- C) I ve III
- D) I, II ve III

7.



Bu görselden yararlanılarak Türk Kızılayı ile ilgili;

- I. doğal afetlerde halka destek olduğu,
- II. toplum ile dayanışma içinde olduğu,
- III. Karadeniz halkının güvenliğini sağlamaya çalıştığı

değerlendirmelerinden hangileri yapılabilir?

- A) Yalnız II                      B) I ve II                      C) I ve III                      D) I, II ve III

8. Aşağıda verilen gelişmelerin ilgili olduğu savaş tabloda "✓" sembolü ile işaretlenecektir.

Anadolu'nun Yurt Olmasında Etkili Olan Gelişmeler	Malazgirt Savaşı	Miryakefalon Savaşı	Pasinler Savaşı
Anadolu'nun kapılarını Türklere açan savaş			
Anadolu'nun Türkler tarafından tanınmasını sağlayan ilk savaş			
Avrupalıların, Anadolu'ya Türkiye demesini sağlayan savaş			
Türklerin Anadolu'daki hâkimiyetini kesinleştiren savaş			

Buna göre tablonun doğru işaretlenmiş hâli aşağıdakilerin hangisinde verilmiştir?

- A) 

		✓
	✓	
✓		
	✓	

      B) 

✓		
		✓
	✓	
	✓	

      C) 

✓		
✓		
	✓	
		✓

      D) 

	✓	
✓		
		✓
✓		



9. Aşağıda Veda Hutbesi'nden alınan bazı bölümler verilmiştir.

- Ey insanlar! Kadınların haklarını gözetmenizi ve bu hususta Allah'tan korkmanızı tavsiye ederim. Sizin kadınlar üzerinde hakkınız, kadınların da sizin üzerinizde hakkı vardır.  
...
- Ey müminler! Size iki emanet bırakıyorum, onlara sarılıp uydukça yolunuzu hiç şaşırırsınız. O emanetler, Allah'ın kitabı Kur'an-ı Kerim ve Hz. Peygamber'in sünnetidir.  
...
- Müminler! Sözümü iyi dinleyiniz ve iyi belleğiniz! Müslüman, Müslüman'ın kardeşidir ve böylece bütün Müslümanlar kardeştir.  
...
- Ey insanlar! ...Arap'ın Arap olmayana, Arap olmayanın da Arap üzerinde üstünlüğü olmadığı gibi beyaz tenlinin siyah üzerine, siyahın da beyaz tenli üzerinde bir üstünlüğü yoktur. Üstünlük ancak takvada, Allah'tan korkmaktır.

www.diyaret.gov.tr (Düzenlenmiştir.)

**Buna göre aşağıdaki yargılardan hangisine ulaşamaz?**

- A) Veda Hutbesi, evrensel değerler taşıyan bir özelliğe sahiptir.
- B) Veda Hutbesi ile Hz. Muhammed Müslümanlara bazı tavsiyelerde bulunmuştur.
- C) İslam dini, ten ve milliyete dayalı ayrımcılığı kabul etmez.
- D) Tarihteki tüm Müslüman devletler, Veda Hutbesi'ni dikkate almıştır.

10.

Türklerin tarih sahnesinde ilk görüldükleri yer Orta Asya'dır. Karasal iklimin egemen olduğu bu bölgede geniş bozkırlar bulunur. Buna bağlı olarak ilk Türk devletlerinin temel geçim kaynağı hayvancılıktır. Türkler bu bölgede konargöçer olarak yaşamışlardır. Bu durum kalıcı mimari eserler verilmesini engellemiş, taşınabilir sanat ürünleri oluşturulmuştur.

**Bu metinden hareketle,**

- I. Yaşanılan bölgenin özellikleri sosyal yaşamı etkilemiştir.
- II. Türkler, Orta Asya'da göçebe olarak yaşamıştır.
- III. Yaşam biçimi, sanatsal faaliyetleri etkilemiştir.

**yargılarından hangilerine ulaşılabilir?**

- A) I ve II
- B) I ve III
- C) II ve III
- D) I, II ve III





Deneme Sınavı - 04

ULTI  
Seri

SARMAL DENEME (1 VE 2. ÜNİTE)

Adı ve Soyadı :

Sınıfı :

Numarası :



656433

ÖĞRENCİ NO	YANITLAR
0 0 0 0 0 0 0 0	1 A B C D 11 A B C D
1 1 1 1 1 1 1 1	2 A B C D 12 A B C D
2 2 2 2 2 2 2 2	3 A B C D 13 A B C D
3 3 3 3 3 3 3 3	4 A B C D 14 A B C D
4 4 4 4 4 4 4 4	5 A B C D 15 A B C D
5 5 5 5 5 5 5 5	6 A B C D 16 A B C D
6 6 6 6 6 6 6 6	7 A B C D 17 A B C D
7 7 7 7 7 7 7 7	8 A B C D 18 A B C D
8 8 8 8 8 8 8 8	9 A B C D 19 A B C D
9 9 9 9 9 9 9 9	10 A B C D 20 A B C D

1. Aşağıda *Ergenekon Destanı*'ndan alınan bir bölüm verilmiştir.

Çinliler ve Moğolların başını çektiği halklar, Türk milletini tuzağa düşürerek büyük bir bozguna uğrattılar. Kurtulabilenler bir dağa kaçtı. Ortasında otlakları, ağaçları, nehirleri ve gölleri olan bir ovada yaşamaya başladılar. Zamanla sayıları çoğaldı, buraya sığmaz oldular. Ergenekon adı verilen bu yerden çıkmak için dağın içindeki demir madenini eriterek yol açtılar. Yolun açıldığı günün yıl dönümlerinde çeşitli oyunlar, eğlenceler ve spor müsabakaları düzenlediler; atalarına kurban kestiler.

**Buna göre Türkler ile ilgili,**

- Madencilik işinde ustalaşmışlardır.
- Komşu uygarlıklar ile mücadele içerisine girmişlerdir.
- Ergenekon'dan çıkışı önemli bir gün olarak kabul etmişlerdir.

**yargılarından hangilerine ulaşılabilir?**

- A) I ve II                      B) I ve III                      C) II ve III                      D) I, II ve III

2.

Sosyal faaliyetlerde kültürün önemli bir unsuru olan dinin etkisi görülür. Düğün, sünnet gibi sevinçli günleri ya da hastalık, ölüm gibi hüznü günleri dinî motifler taşıyan geleneklerle doludur. Kişinin çevresinde bulunan yardıma muhtaç kişilere yardım etmek ve destek olmak, İslam dini tarafından insanlara yüklenen bir görevdir.

**Bu açıklamadan yararlanılarak ulaşılacak en genel yargı aşağıdakilerden hangisidir?**

- İslam dininde yardımlaşma önemli bir yere sahiptir.
- Sosyal faaliyetlerdeki dinî motifler değişkenlik gösterir.
- Yardıma muhtaç kişilere yardımcı olmak, bireylere olumlu duygu kazandırır.
- Dayanışma ruhu her dinî grupta yer almaz.

3.

- Okan'ın farklı cinsiyetteki insanlara karşı kalıp yargıları vardır.
- Buse, farklı dinî inançtaki insanlara ön yargılı yaklaşır.
- Ali, özel gereksinimli bireylere umursamaz davranır.

**Öğrencilerin bu tutum ve davranışları;**

- toplumsal birliktelik,
- hoşgörü kültürü,
- farklılıklara saygı

**unsurlarından hangilerini olumsuz etkiler?**

- A) Yalnız II                      B) I ve II  
C) I ve III                      D) I, II ve III






4.



Mevlana



Hacı Bektaş Veli



Yunus Emre

**Görselleri verilen Türk büyüklerinin ortak özellikleriyle ilgili,**

- I. Anadolu'da Türk İslam kültürünü yaymışlardır.
- II. Türk halkı arasında birlik ve beraberliği güçlendirmişlerdir.
- III. Eserleri günümüze kadar ulaşmıştır.

**yargılarından hangileri doğrudur?**

- A) I ve II                      B) I ve III                      C) II ve III                      D) I, II ve III

5. İslamiyet'in ortaya çıkışının beraberinde getirdiği değişimle ilgili Zeynep tablodaki eşleştirmeleri yapmıştır.

	Yaşanan Değişim	Alan
I.	Kadınlara verilen önem artmıştır.	Sosyal
II.	Arap boyları arasındaki kan davaları sona ermiştir.	Ekonomik
III.	Araplar arasında birlik sağlanıp güçlü bir devlet kurulmuştur.	Siyasi
IV.	Arap mimarisi ve sanatı gelişmiştir.	Kültür

**Buna göre Zeynep'in yaptığı eşleştirmelerden hangisi yanlıştır?**

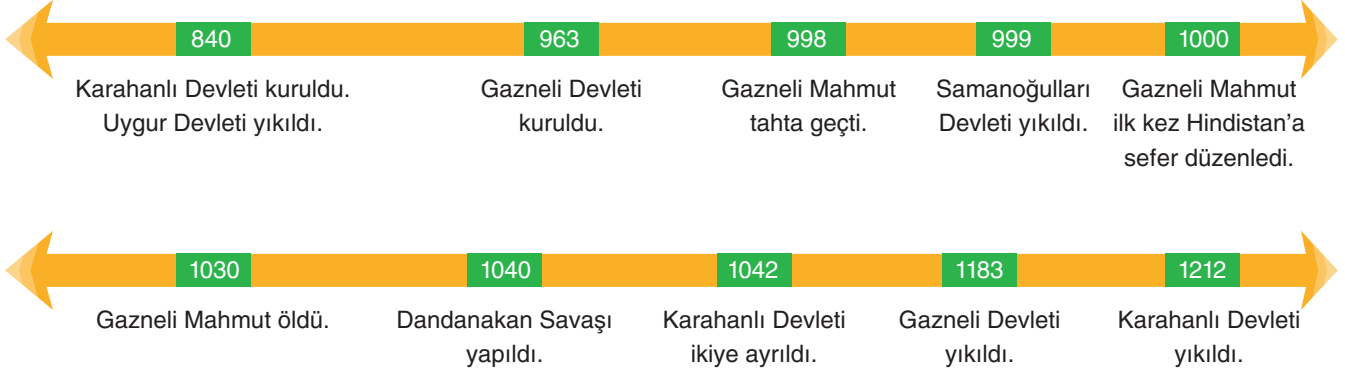
- A) I                      B) II                      C) III                      D) IV

6. Selçuklu Türklerinin Anadolu'ya düzenlediği ilk akınlar, 1015-1018 yılları arasında Tuğrul Bey'in emri ile kardeşi Çağrı Bey tarafından yapılmıştır. Bu akınların temel amacı, Anadolu'yu tanımak ve keşfetmektir. Yaklaşık yirmi yıl süren bu akınlardan rahatsız olan Bizans İmparatorluğu, büyük bir ordu ile Selçuklu Türklerinin üzerine yürümüştür. Pasinler Savaşında Bizans yenilmiş, Anadolu'nun doğusunun kontrolü Selçuklulara geçmiştir. 1071 yılında yapılan Malazgirt Savaşı ile Anadolu'da fetih amaçlı akınlar başlamıştır.

**Bu metinden hareketle aşağıdaki çıkarımlardan hangisine ulaşamaz?**

- A) Anadolu'ya yapılan Türk akınları, Batı dünyasındaki tüm devletlerde tedirginlik yaratmıştır.
- B) Anadolu'nun ilk olarak doğusu kontrol altına alınmıştır.
- C) Anadolu akınlarının amacı zaman içerisinde değişmiştir.
- D) Selçuklu Türkleri, Anadolu'ya 11. yüzyılın başlarında girmiştir.

7.



Verilen kronolojik cetvelden hareketle aşağıdakilerden hangisi söylenemez?

- A) Karahanlılar, Gaznelilerden önce kurulmuştur.
- B) Aynı dönemde varlık gösteren Türk devletleri vardır.
- C) Dandanakan Savaşı, Gazneliler ile Selçuklular arasında yapılmıştır.
- D) Gazneli Mahmut, fetihçi bir siyaset izlemiştir.

8.



Orta Asya'nın coğrafi koşullarına bağlı olarak Türkler göçebe yaşam tarzını benimsemişlerdir.

Aşağıdakilerden hangisi bu yaşam tarzının sonucu olamaz?

- A) Yazın yaylalara çıkmak
- B) Güçlü devletler kuramamak
- C) Tarımsal faaliyetler yapamamak
- D) Taşınabilir çadırlarda yaşamak